

「サンシローくらぶ」のテキストの例 ～算数～

【第1回】

学しゅうした日 月 日 1つ20点 **10分**


■1 ■ 下の□にあてはまる数字を書きなさい。(10点ずつ)

1cmは1mmが こぶんの長さで、2cm3mmは1mmが こぶんの長さです。

■2 ■ 下の□にあてはまる数字を書きなさい。(10点ずつ)

1Lは1dLが こぶんのかさで、1L2dLは1dLが こぶんのかさです。

■3 ■ 下の数直線で、ア、イのめもりが表す数を書きなさい。(10点ずつ)

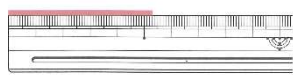


ア _____ イ _____

■4 ■ 次の2つの数は、どちらが大きいですか。不等号を使って書きなさい。

108000 100800

■5 ■ 次のテープの長さは、何cmですか。




【第2回】

学しゅうした日 月 日 1つ20点 **10分**

■1 ■ れいぞう庫に1Lの牛にゅうがありました。まゆみさんは、朝6dL飲みました。何dLのこっていますか。(式)

■2 ■ 下の数直線で、ア、イのめもりが表す数を書きなさい。(10点ずつ)

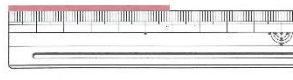


ア _____ イ _____

■3 ■ 次の2つの数は、どちらが大きいですか。不等号を使って書きなさい。

7634000 7463900

■4 ■ 次のテープの長さは、何cmですか。



■5 ■ 次の□にあてはまる数字を書きなさい。(10点ずつ)

① 2dL = L

② 2.3L = L dL

【第3回】

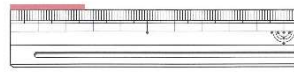
学しゅうした日 月 日 1つ20点 **10分**

■1 ■ 家から学校までの道のりは2km500mで、学校から駅までの道のりは700mです。家から学校を通して駅までの道のりは、何km何mですか。(式)

■2 ■ 次の2つの数は、どちらが大きいですか。不等号を使って書きなさい

30100000 4300000

■3 ■ 次のテープの長さは、何cmですか。




■4 ■ 次の□にあてはまる数字を書きなさい。(10点ずつ)

① 4dL = L

② 3.8L = L dL

■5 ■ 下の数直線で、ア、イのめもりが表す小数を書きなさい。(10点ずつ)



ア _____ イ _____

類似問題がくりかえし出題されているのが、おわかりでしょうか!!