

## 「サンシローくらぶ」のテキストの例 ～算数～

【第1回】

学しゅうした日 月 日 1つ20点 **10分**


■1 ■  下の□にあてはまる数字を書きなさい。(10点ずつ)

1cmは1mmが  こぶんの長さで、2cm3mmは1mmが  こぶんの長さです。

■2 ■  下の□にあてはまる数字を書きなさい。(10点ずつ)

1Lは1dLが  こぶんのかさで、1L2dLは1dLが  こぶんのかさです。

■3 ■  下の数直線で、ア、イのめもりが表す数を書きなさい。(10点ずつ)

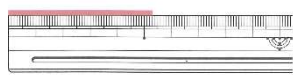


ア \_\_\_\_\_ イ \_\_\_\_\_

■4 ■  次の2つの数は、どちらが大きいですか。不等号を使って書きなさい。

108000  100800

■5 ■ 次のテープの長さは、何cmですか。




【第2回】

学しゅうした日 月 日 1つ20点 **10分**

■1 ■  れいぞう庫に1Lの牛にゅうがありました。まゆみさんは、朝6dL飲みました。何dLのこっていますか。(式)

■2 ■  下の数直線で、ア、イのめもりが表す数を書きなさい。(10点ずつ)

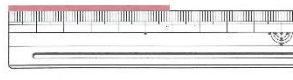


ア \_\_\_\_\_ イ \_\_\_\_\_

■3 ■  次の2つの数は、どちらが大きいですか。不等号を使って書きなさい。

7634000  7463900

■4 ■  次のテープの長さは、何cmですか。



■5 ■  次の□にあてはまる数字を書きなさい。(10点ずつ)

① 2dL =  L

② 2.3L =  L  dL

【第3回】

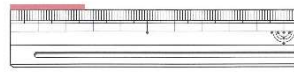
学しゅうした日 月 日 1つ20点 **10分**

■1 ■  家から学校までの道のりは2km500mで、学校から駅までの道のりは700mです。家から学校を通して駅までの道のりは、何km何mですか。(式)

■2 ■  次の2つの数は、どちらが大きいですか。不等号を使って書きなさい

30100000  4300000

■3 ■  次のテープの長さは、何cmですか。




■4 ■  次の□にあてはまる数字を書きなさい。(10点ずつ)

① 4dL =  L

② 3.8L =  L  dL

■5 ■  下の数直線で、ア、イのめもりが表す小数を書きなさい。(10点ずつ)



ア \_\_\_\_\_ イ \_\_\_\_\_

類似問題がくりかえし出題されているのが、おわかりでしょうか!!